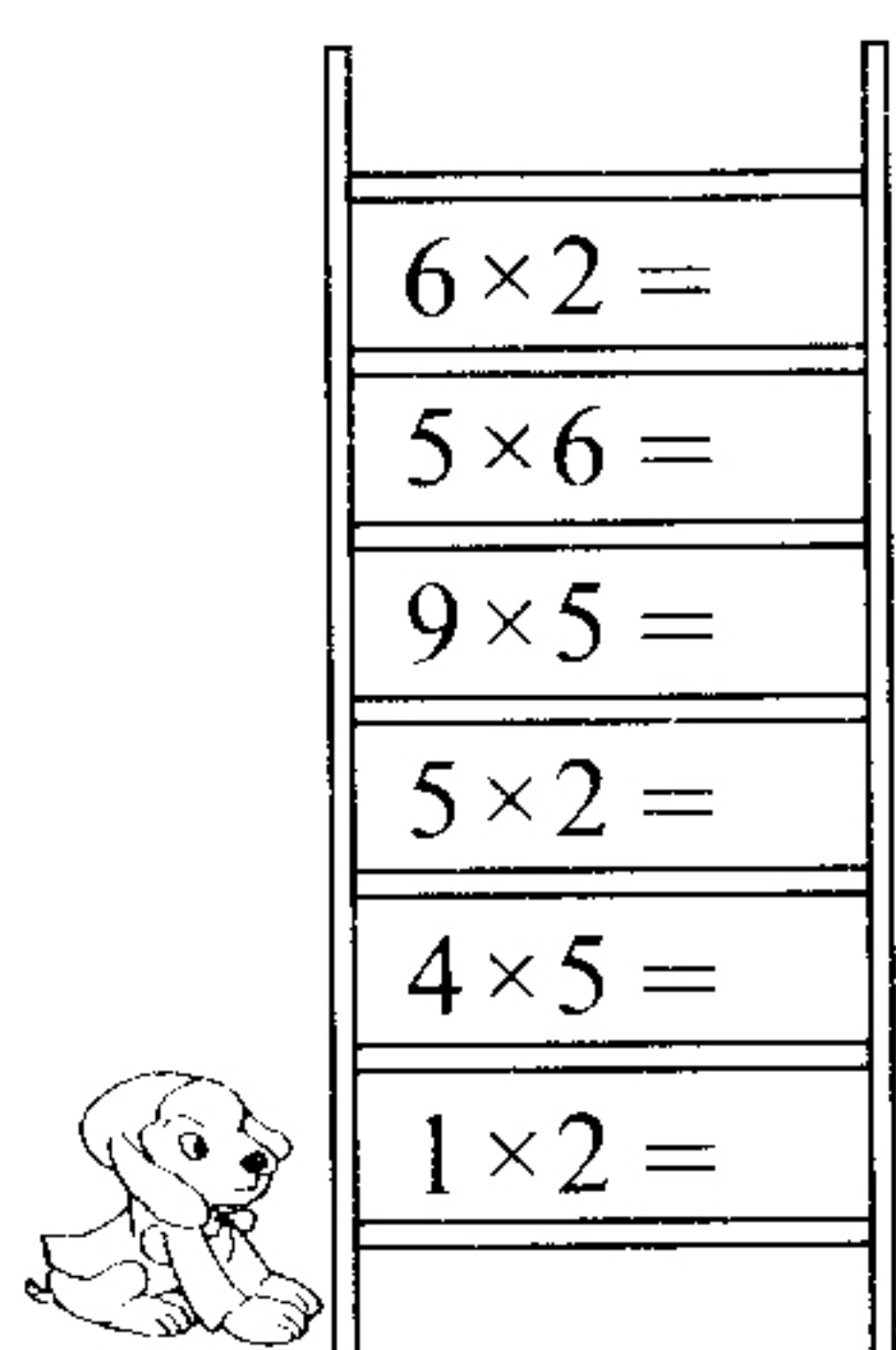



第5单元 综合测试卷

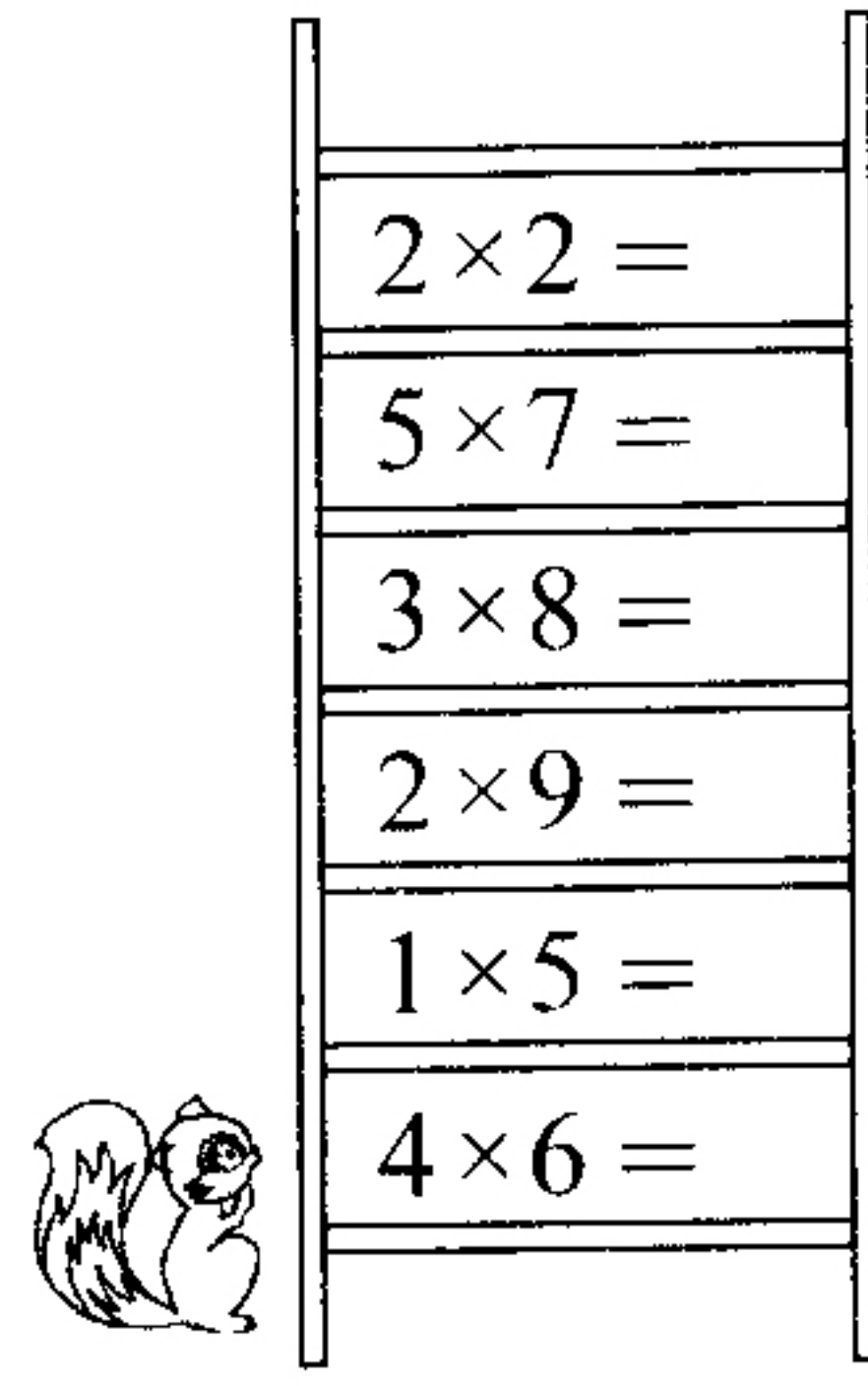
(时间: 60 分钟 满分: 100 分)

题号	一	二	三	四	五	六	七	总分
得分								

一、算一算。(9 分)



$$\begin{array}{l} 6 \times 2 = \\ 5 \times 6 = \\ 9 \times 5 = \\ 5 \times 2 = \\ 4 \times 5 = \\ 1 \times 2 = \end{array}$$


$$\begin{array}{l} 2 \times 8 = \\ 3 \times 5 = \\ 5 \times 5 = \\ 7 \times 4 = \\ 3 \times 2 = \\ 8 \times 5 = \end{array}$$


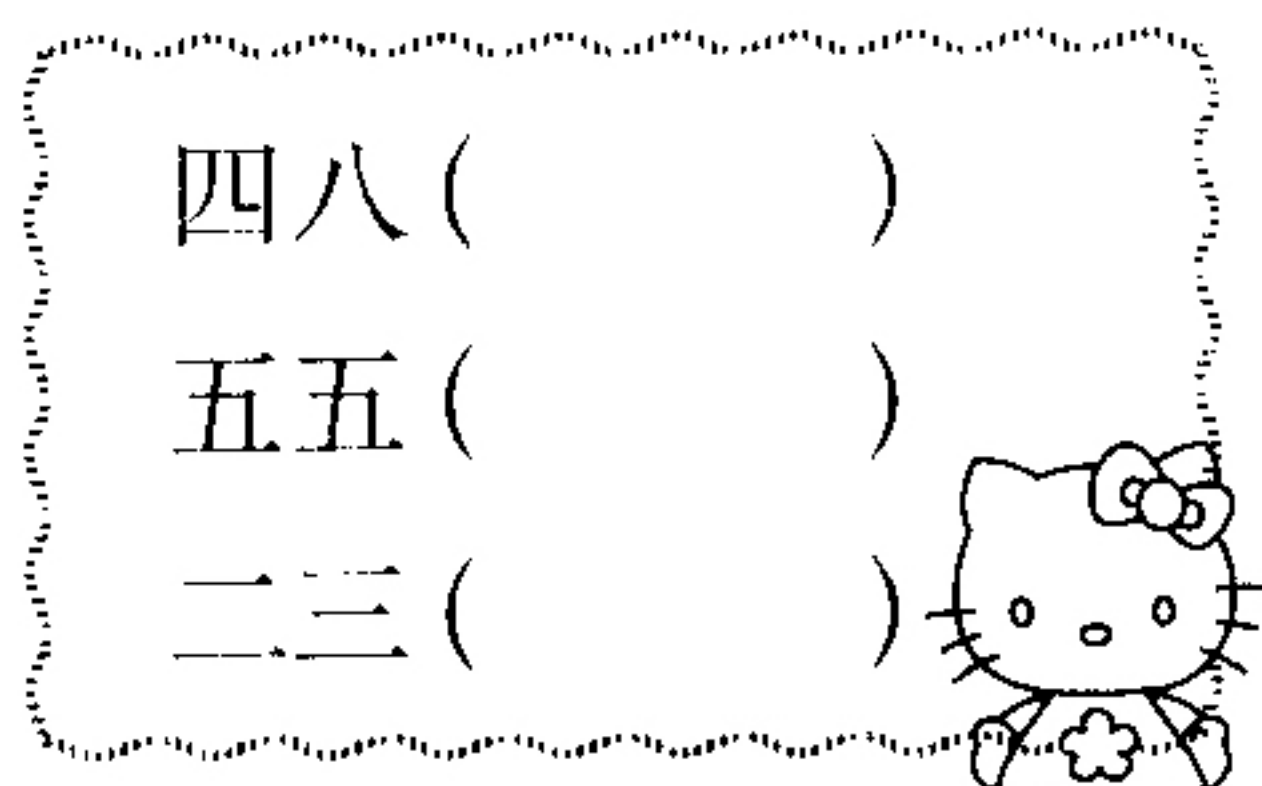
$$\begin{array}{l} 2 \times 2 = \\ 5 \times 7 = \\ 3 \times 8 = \\ 2 \times 9 = \\ 1 \times 5 = \\ 4 \times 6 = \end{array}$$

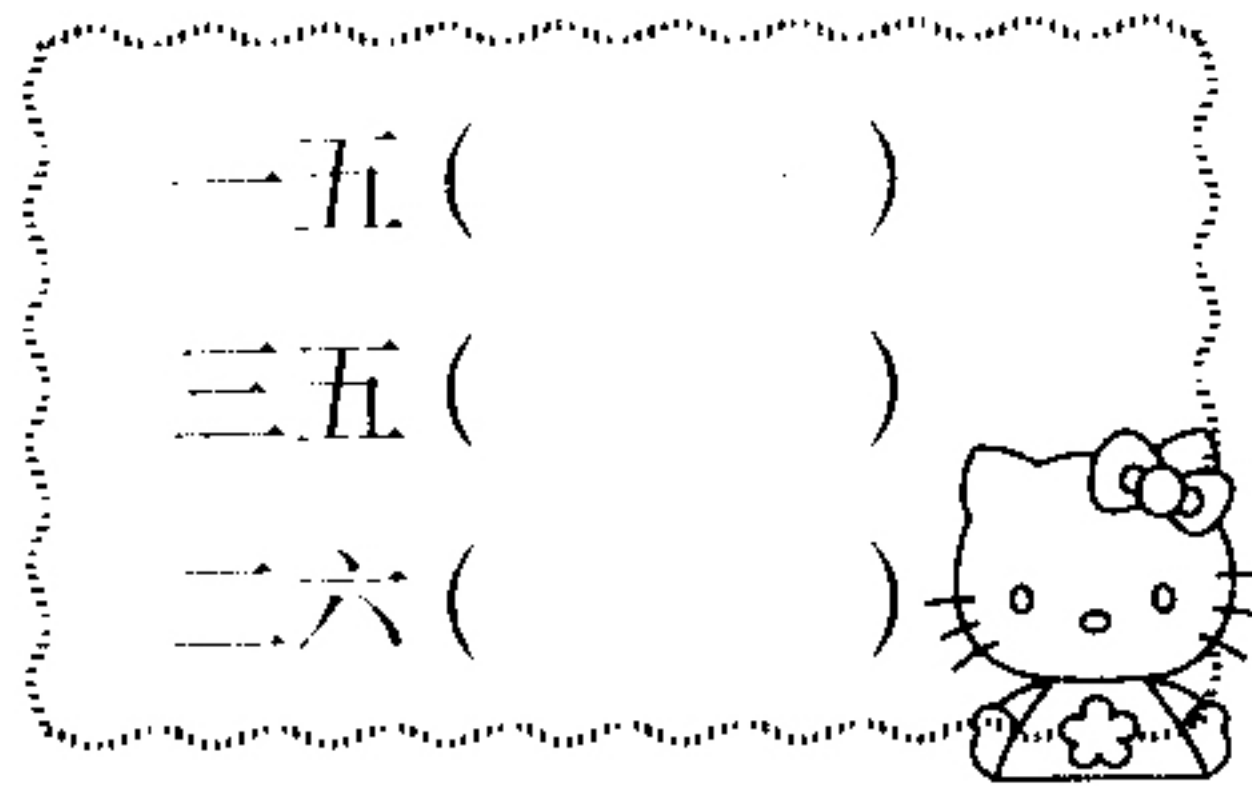
二、填空。(每空 1 分, 共 33 分)

1. 3×4 读作 (), 表示 () 个 () 相加, 乘法口诀是 ()。

2. 根据“五八四十”这句口诀, 可以写出的乘法算式是 () 和 ()。

3. 把口诀填完整。



$$\begin{array}{l} \text{四八} () \\ \text{五五} () \\ \text{二三} () \end{array}$$


$$\begin{array}{l} \text{一五} () \\ \text{三五} () \\ \text{二六} () \end{array}$$


$$\begin{array}{l} \text{三七} () \\ \text{四五} () \\ \text{四九} () \end{array}$$

4. 两个乘数都是 4, 积是 16, 列成算式是 ()。

5. 1 张桌子有 4 条腿, 7 张桌子有 () 条腿。

6. 在○里填上 “>” “<” 或 “=”。

$3 \times 4 \bigcirc 16$

$45 \bigcirc 5 \times 9$

$3 \times 9 \bigcirc 4 \times 6$

$7 + 7 + 7 \bigcirc 18$

$8 \times 4 \bigcirc 5 \times 8$

$5 \times 6 \bigcirc 6 + 6$

7. 填一填。

$() \times 3 = 12$

$5 \times () = 25$

$2 \times () = 18$

$4 \times () = 32$

$28 = 4 \times ()$

$6 \times () = 3 \times 4$

8. 找规律, 填一填。

(1) 4, 8, 12, 16, (), ()

(2) 5, 10, 15, 20, (), ()

三、判断。(对的打 “√”, 错的打 “×”) (4 分)

1. 在计算 9×2 和 2×9 时, 可用同一句乘法口诀。 ()

2. 2×2 和 4×2 的结果和口诀相同。 ()

3. 6 个 3 相加, 列乘法算式为 6×3 或 3×6 。 ()

4. $2 + 2 + 2 + 3$ 可写作 2×3 。 ()

四、选择。(10 分)

1. 已知 $\triangle + \triangle + \triangle + \triangle + \triangle = 35$, 则 $\triangle = ()$ 。

A. 6

B. 7

C. 8

2. 1 只兔子 2 只眼睛, 9 只兔子有 () 只眼睛。

A. 11

B. 7

C. 18

3. 1 个  5 元, 王阿姨买这样 8 个排球, 需要 () 元。

A. 48

B. 13

C. 40

4. 4 个星期共有 () 天。

A. 28

B. 14

C. 21

5. 摆 1 个三角形至少要用 3 根小棒, 摆 3 个独立的三角形至少需要 () 根小棒。

A. 6

B. 9

C. 12

五、找朋友。(连一连) (8 分)

★ 4×8

三六十八

9×3

★ 3×9

四八三十二

6×3

★ 4×5

四五二十

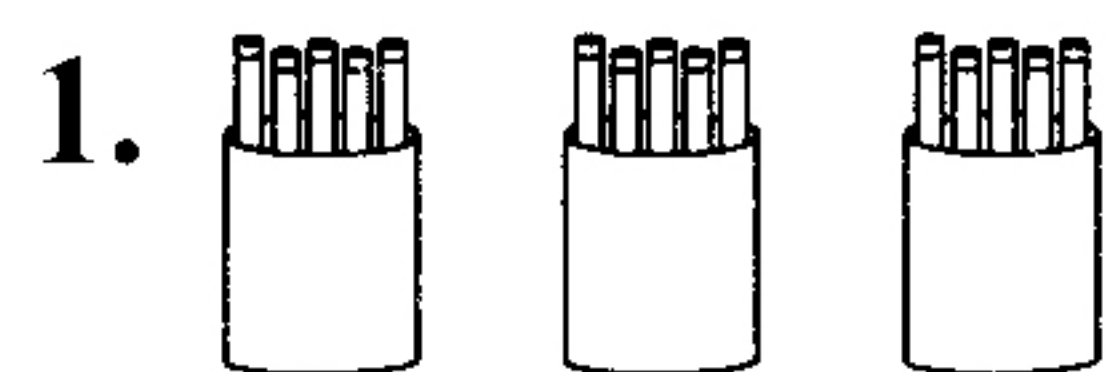
8×4

★ 3×6

三九二十七

5×4

六、看图列式计算并写口诀。(12 分)



算式: $\square \times \square = \square$ ()

口诀: _____



算式: $\square \times \square = \square$ ()

口诀: _____

3. 一共有多少个气球?



算式: $\square \times \square = \square$ ()

口诀: _____

4. 一共有多少朵花?




算式: $\square \times \square = \square$ ()

口诀: _____

七、解决问题。(24 分)

1. 同学们给树浇水, 每个人浇 4 棵, 3 个人一共浇多少棵? (4 分)



2. (5 分)



人之初，性本善，性相近，习相远，
苟不教，性乃迁，教之道，贵以专。

这段朗朗上口的《三字经》一共有多少个汉字？

3. 购物。(15 分)



6 元



8 元



5 元



7 元

(1) 买 6 个杯子要花多少钱？

(2) 买 2 个文具盒和 1 支钢笔共要花多少钱？

(3) 请你提出一个数学问题并解答。